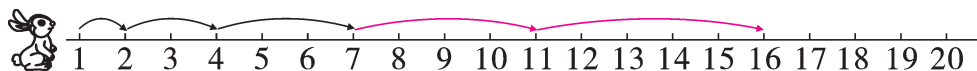
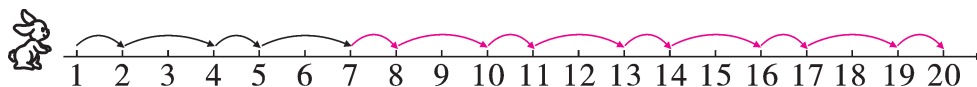


[illegible]

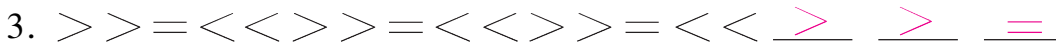
一、圈出合适的图形。(每题 2 分,共 4 分)



二、按规律接着画。(8分)



三、找规律,画一画。(每空 0.5 分,共 6 分)



四、找规律,填上所缺的数。(15 分)

-
- 28 25 22 19 16 13 10 7 4

 -3 -3 -(3) -(3) -(3) -(3) -(3) -(3)
-

五、划掉不符合规律的数,并改正在横线上。(每题 3 分,共 6 分)

-
-

六、按规律填数。(6 分)

- 1 3 5 7 9 11 13
- 12 10 8 6 4 2
- 19 16 13 10 7 4
- 11 17 23 29 35 41
- 2 11 2 10 2 9 2 8
- 2 13 4 11 6 9 8 7

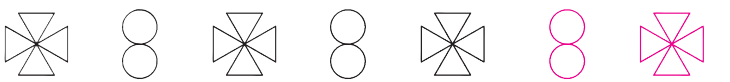
七、按照图形的排列规律,接着画图形。(11 分)

-
- △△△ ○ △△△ ○ △△△ ○ △△△

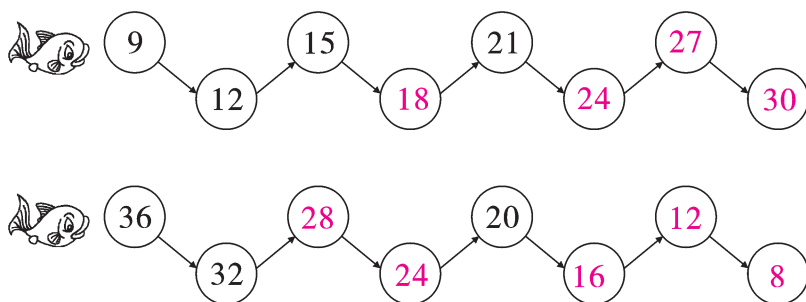
1 3 1 3 1 3 1 3

3. ○○○○○○ ○○○ ○○○

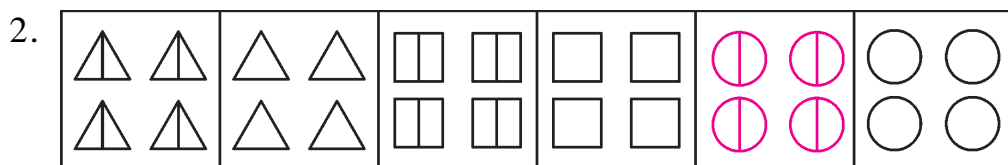
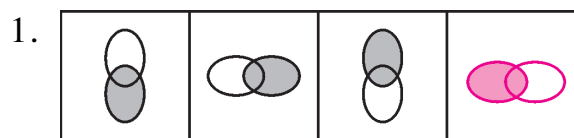
4. 

5. 

八、小鱼吹泡泡。(9 分)

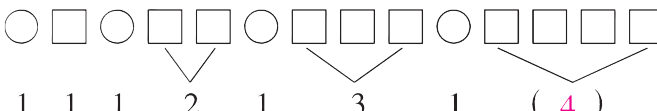


九、按规律将图案补充完整。(10 分)



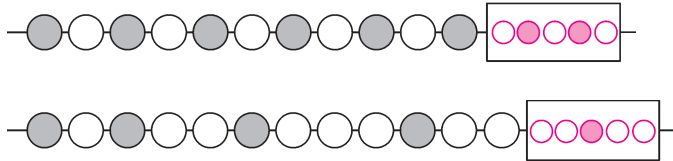
十、后面该填几？(每空 2 分,共 6 分)

1. 

2. 

十一、被卡片盖住的 5 颗珠子是什么颜色的？请你在卡片上画出来。

(6 分)



十二、请你在下表中涂出几种有规律的图案。(5 分)

1	2	3	4	5	6	7	8	9	10
11	12	13	14	15	16	17	18	19	20
21	22	23	24	25	26	27	28	29	30
31	32	33	34	35	36	37	38	39	40
41	42	43	44	45	46	47	48	49	50
51	52	53	54	55	56	57	58	59	60
61	62	63	64	65	66	67	68	69	70
71	72	73	74	75	76	77	78	79	80
81	82	83	84	85	86	87	88	89	90
91	92	93	94	95	96	97	98	99	100

(答案不唯一)

十三、(趣味题) 仔细观察图形的排列规律, 动手画一画。(8 分)

